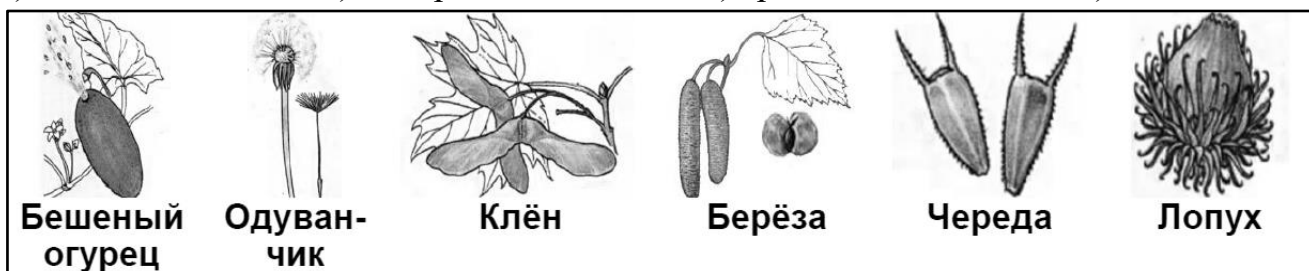


ЧАСТЬ I

Выбери и обведи букву правильного ответа.

Проверь. Если ошибся, то зачеркни ошибку и выбери другой ответ.

1. Как назвать члена общества российского государства?
А) житель Б) гражданин В) горожанин Г) человек
2. Почему экологи бьют тревогу о необходимости резкого снижения выброса парниковых газов в атмосферу? Что изменится?
А) состав почвы Б) состав воды В) климат Г) полезные ископаемые
3. Преобладание какого компонента является показателем плодородия почвы?
А) песок Б) глина В) перегной Г) соли
4. Озеро Байкал – это водная жемчужина нашей страны. В него впадает 336 рек, а вытекает одна. Какая?
А) Енисей Б) Лена В) Обь Г) Ангара
5. Кто является основоположником российской космонавтики?
А) С.П. Королев Б) А.П. Гайдар В) Ю.А. Гагарин Г) Галилео Галилей
6. Их нельзя отнести ни к животному миру, ни к растениям. Но с ним в содружестве очень многие растения. Что это? -
А) тина Б) водоросли В) грибы Г) торф
7. Сколько из представленных растений распространяют свои семена или плоды при помощи ветра?
А) пять Б) четыре В) три Г) два



8. Из какого зерна делают манную крупу?
А) просо Б) пшеница В) манная Г) ячмень
9. Как можно узнать свойства воды?
А) наблюдением Б) измерением В) моделированием Г) постановкой опытов
10. Как называются места, где залегают полезные ископаемые?
А) горы Б) карьеры В) месторождения Г) шахты

ЧАСТЬ 2

11. Продолжи предложения.




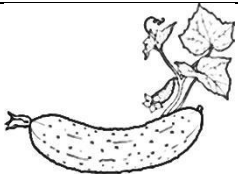

Все звёзды – это огромные пылающие _____ .

Ближайшая к Земле звезда – _____ .

Звёзды кажутся нам маленькими светящимися точками, потому что _____

Звёзд на небе очень много, и люди объединили их в _____

12. Укажи, каким способом размножаются эти растения. Впиши в таблицу соответствующие буквы.

				
картофель	смородина	тюльпан	огурец	клубника

А) черенками Б) семенами В) луковицами Г) усами Д) клубнями

13. Прочитай «Лесные объявления»? Какие животные могли бы дать их?

А) Распознаю древесные породы. Строю и сдаю квартиры. (.....)

Б) Выполняю плотницкие работы на берегу реки. (.....)

В) Меняю рога на мухоморы. (.....)

Г) Не сдаю жилища. Прошу не беспокоить до весны. (.....)


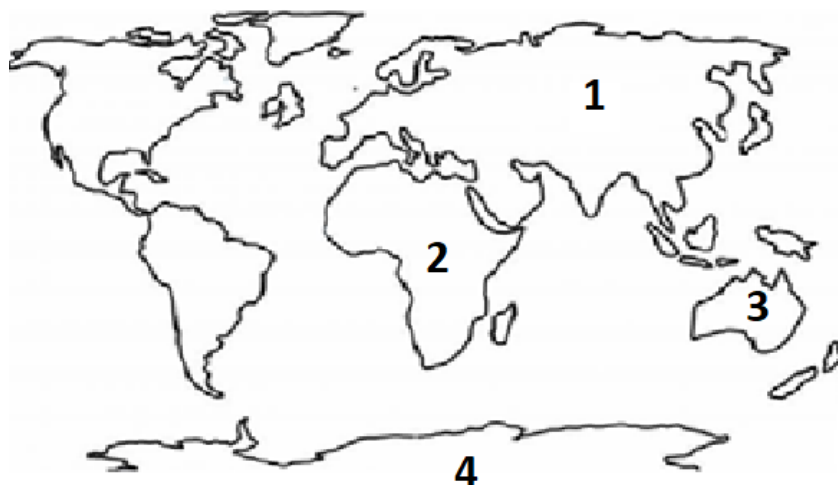

14. Рассмотрю картинку. Напиши названия материков по цифрам. Соедини стрелкой материк с животным, которое там обитает.

1 – _____

2 – _____

3 – _____

4 – _____



15. Люди часто дают растениям названия, связанные с животными. Например: олений мох, птичий горец. Продолжи список растений с такими названиями (не менее четырёх).

Ответ:.....
.....

ЧАСТЬ 3

16. Вычеркни лишнее слово в каждой группе, напиши общий признак группы.

А) Круглица; Юрма, Магнитная, Эльбрус – _____

Б) Копейск, Златоуст, Пермь, Троицк – _____

В) Увильды, Байкал, Чебаркуль, Тургойск – _____

Г) Волга, Теча, Урал, Миасс – _____

17. Юг Челябинской области представлен зоной степей. Объясни, почему в степи так много зверей ведёт подземный образ жизни. **Вставь в пустые клетки цифры по порядку от причины к следствию.**

А) Солнце летом стоит высоко.

Б) В почве много червей и личинок насекомых.

В) Многие звери ведут подземный образ жизни.

Г) Подземные части растений хорошо развиты.

Д) Растения пытаются найти влагу под землёй.

Е) Стоит жаркая погода, и осадки быстро испаряются.

18. Челябинская область славится своими городами. Узнай город по описанию и запиши его название в таблицу.

1	Этот старинный город раскинулся по берегам горной реки Ай. Он известен на весь мир достижениями мастеров, изготавливающих уникальные гравюры на стали. В этом городе золотой и серебряной насечкой украшают подарочное оружие.	
2	Этот старинный город находится на берегу одноимённого озера. Здесь зародилось и развивается уникальное искусство - художественное литьё из чугуна, получившее признание далеко за пределами страны. Литьём украшены многие улицы города Челябинска.	
3	Этот город второй по величине в нашей области. Своё название он получил от горы, на которой он построен. В нём находится крупный металлургический комбинат. Жители этого города ежедневно совершают путешествие из Европы в Азию, проезжая по мосту через реку Урал.	