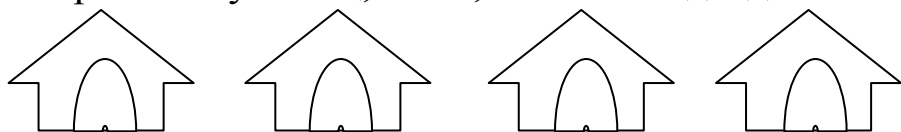


Примерный вариант заданий олимпиады для 1-классников.

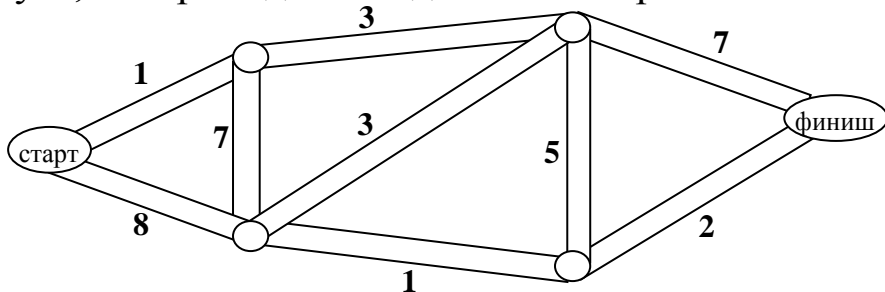
Внимательно прочти задания. Ответы и решения впиши в специальный лист. *Желаем успеха!*

1). На опушке леса стоят рядком домики, в которых живут Заяц, Лиса, Волк и Медведь.

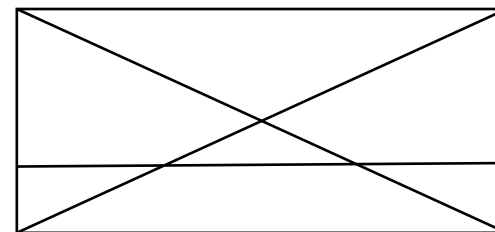


Волк живет рядом с Зайцем, но не рядом с Медведем. Медведь не живет рядом с Лисой. Справа от Лисы никто не живет. Кто живет рядом с Лисой?

2). Лора Курсорова – автор новой компьютерной игры: надо провести героя от старта до финиша по линиям-дорожкам так, чтобы на его пути встретилось не больше 10 препятствий (у героя всего 10 жизней). Количество препятствий на каждом участке пути указано на схеме. Отметь путь, которым должен двигаться герой.



3. Сколько треугольников на этом рисунке Сержки Чертежкина?



4. Помоги Филарету Табуреткину расставить 14 стульев вдоль стен пятиугольной комнаты так, чтобы возле каждой стены стояло по 3 стула.



5. Вставь на место числа, которые выпали из этой таблицы, чтобы в каждой строке и в каждом столбце получилось верное равенство.

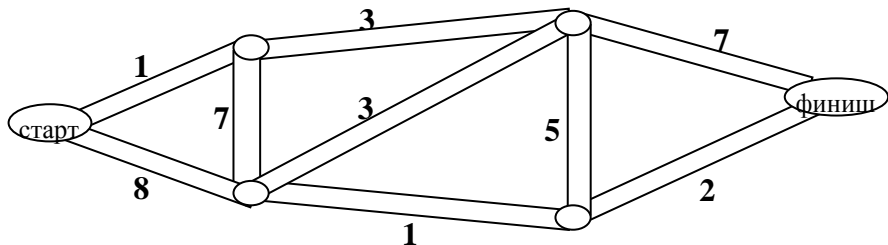
5	+		-	3	=	4
-		+		+		+
3	+		-		=	
+		+		+		-
	-		+	4	=	6
=		=		=		=
5	+		-		=	4

Бланк для ответов и решений

Шифр _____ Ф.И. _____ Школа _____

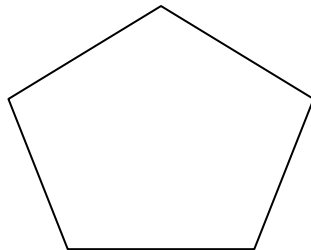
1). Рядом с Лисой живет _____.

2. Путь, которым должен двигаться герой:



3. На Сереежном рисунке _____ треугольников.

4. Покажи, как Филарет должен расставить стулья:



5. Вставь числа, которые выпали:

5	+		-	3	=	4
-		+		+		+
3	+		-		=	
+		+		+		-
	-		+	4	=	6
=		=		=		=
5	+		-		=	4

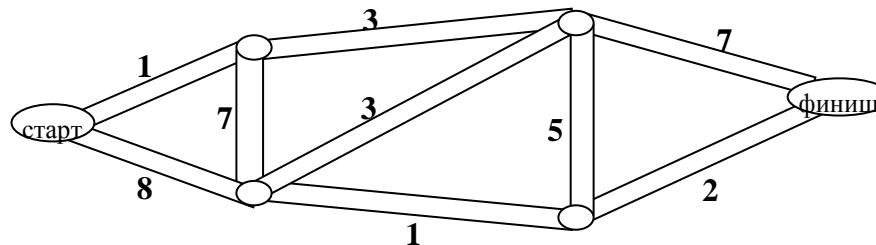
Задача 1	Задача 2	Задача 3	Задача 4	Задача 5	Баллы	Место

Бланк для ответов и решений

Шифр _____ Ф.И. _____ Школа _____

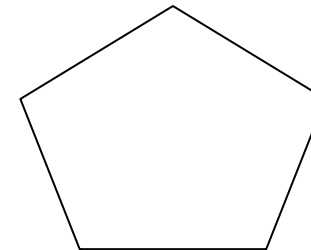
1). Рядом с Лисой живет _____.

2. Путь, которым должен двигаться герой:



3. На Сереежном рисунке _____ треугольников.

4. Покажи, как Филарет должен расставить стулья:



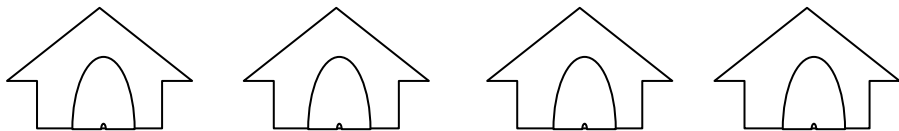
5. Вставь числа, которые выпали:

5	+		-	3	=	4
-		+		+		+
3	+		-		=	
+		+		+		-
	-		+	4	=	6
=		=		=		=
5	+		-		=	4

Задача 1	Задача 2	Задача 3	Задача 4	Задача 5	Баллы	Место

Ответы и решения для учителей и родителей

1. Рядом с Лисой живет Волк.



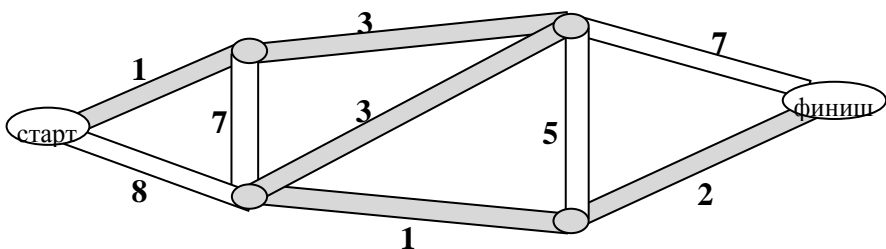
Медведь

Заяц

Волк

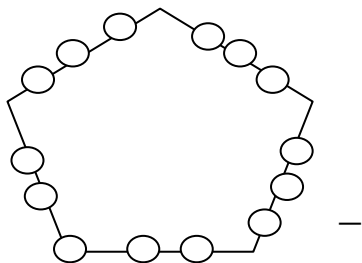
Лиса

2. Путь героя отмечен на рисунке:



3. На Сережином рисунке 13 треугольников.

4. Смотри на рисунке:

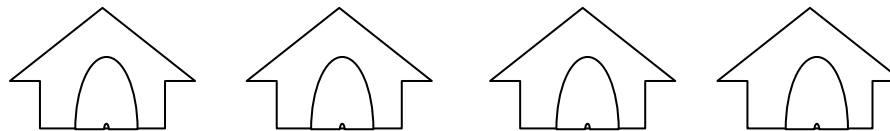


5. Ответ: один из вариантов на рисунке.

5	+	2	-	3	=	4
-		+		+		+
3	+	4	-	1	=	6
+		+		+		-
3	-	1	+	4	=	6
=		=		=		=
5	+	7	-	8	=	4

Ответы и решения для учителей и родителей

1. Рядом с Лисой живет Волк.



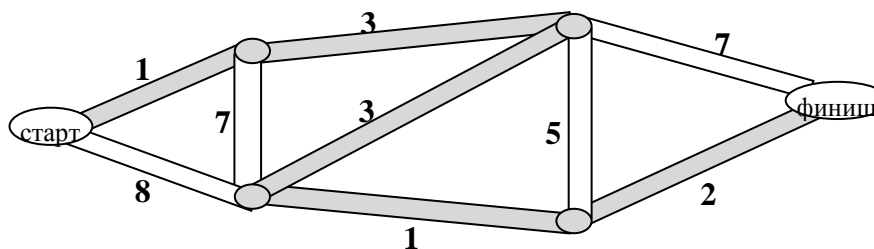
Медведь

Заяц

Волк

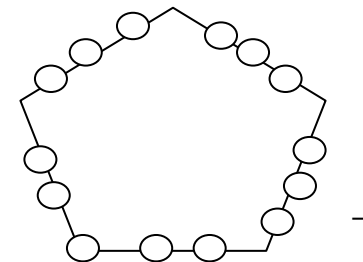
Лиса

2. Путь героя отмечен на рисунке:



3. На Сережином рисунке 13 треугольников.

4. Смотри на рисунке:



5. Ответ: один из вариантов на рисунке.

5	+	2	-	3	=	4
-		+		+		+
3	+	4	-	1	=	6
+		+		+		-
3	-	1	+	4	=	6
=		=		=		=
5	+	7	-	8	=	4