



## ЧАСТЬ II

**16. Узнай по описанию.**

1) Гирлянды маленьких белых душистых колокольчиков висят весной между большими остроконечными листьями. А летом на месте цветков – красные ягодки, но не пробуй их, они ядовиты. Что это за растение? \_\_\_\_\_

2) Этот прыгучий зверек имеет голову зайца, туловище и передние лапы мыши, задние лапы – птицы, а хвост – льва. Как называют этого зверька? \_\_\_\_\_

3) Это крепкий и красивый камень. Он залегает и в глубине земли, и на её поверхности. Из него могут быть целые горы. В переводе слово название переводится как «зернистый». И такое название у него не случайно. Как называется этот камень? \_\_\_\_\_






**17. Отметь в  знаком «+» правильные высказывания.**

- А) В лёгких происходит обмен углекислого газа на кислород.
- Б) Кровь переносит к органам кислород и питательные вещества.
- В) К органам пищеварения относятся сердце, желудок и кишечник.
- Г) Для роста и развития организма необходимы белки, жиры, углеводы и витамины.
- Д) Сердце управляет всем организмом.

**18. Вычеркни лишнее слово в каждом столбике.**

Арктика	Тундра	Степь	Пустыня	Тайга
водоросли	тюлень	тюльпан	верблюд	соболь
голубика	лемминг	ковыль	заяц	пихта
белый медведь	белая куропатка	бурый медведь	верблюжья колючка	бурый медведь
кайры	ягель	дрофа	сайгак	кедровка
морж	кайра	суслик	корсак	тушканчик

**19. Напиши в таблице, какие части этих растений мы используем в пищу.**

**20. Иногда зимой в водоёмах гибнет рыба. Почему это происходит?**

\_\_\_\_\_

\_\_\_\_\_


\_\_\_\_\_

### Часть III

21. В каких частях света расположена Челябинская область? \_\_\_\_\_

22. Дополни текст по смыслу.  
В годы Великой Отечественной войны на территории города Челябинска были открыты предприятия по выпуску техники, боеприпасов, обмундирования, орудий и многого другого. Тогда Челябинск называли \_\_\_\_\_. На фронт с ЧТЗ было отправлено 18 тысяч \_\_\_\_\_.

23. Этих животных ты можешь встретить в лесах нашей области. Подпиши их названия. Подчеркни названия растительноядных животных.



24. Напиши среду обитания указанных животных нашего края.

поползень	
клоп-водомерка	
кузнечик	
дождевой червь	

25. Жители нашей области обеспокоены состоянием природы, поэтому многие природные объекты охраняются. Напиши, какие охраняемые территории нашего края ты знаешь.

Заповедники: \_\_\_\_\_  
\_\_\_\_\_

Национальные парки: \_\_\_\_\_  
\_\_\_\_\_

Памятники природы Челябинска: \_\_\_\_\_  
\_\_\_\_\_

*Желаем тебе удачи!*

**Ответы**  
**городского (отборочного) тура олимпиады младших школьников**  
**по окружающему миру (4класс)**  
**2019-2020 учебный год**

№ задания	Правильный ответ	Максимальное количество баллов
<b>ЧАСТЬ 1</b>		
<b>1.</b>	Г	1 балл
<b>2.</b>	Б	1 балл
<b>3.</b>	В	1 балл
<b>4.</b>	А	1 балл
<b>5.</b>	В	1 балл
<b>6.</b>	В	1 балл
<b>7.</b>	Г	1 балл
<b>8.</b>	Б	1 балл
<b>9.</b>	Полярная звезда	1 балл
<b>10.</b>	Лето	1 балл
<b>11.</b>	Природный газ	1 балл
<b>12.</b>	Желтому цвету светофора	1 балл
<b>13.</b>	Белая куропатка	1 балл
<b>14.</b>	Лисички	1 балл
<b>15.</b>	8 ножек	1 балл
<b>Часть 1</b>	<b>Всего</b>	<b>15 баллов</b>
<b>ЧАСТЬ 2</b>		
<b>16.</b>	1. Ландыш (майский) 2. Тушканчик 3. Гранит	<b>3 балла</b>
<b>17.</b>	А, Б, Г	<b>2 балла</b>
<b>18.</b>	1.голубика 2.тюлень 3.бурый медведь 4.заяц 5. тушканчик	<b>5 баллов</b>
<b>19.</b>	Горох – семена (1), Морковь – корнеплод (2), (но не корень) Капуста – листья (3), Помидор (томат) – плод (4), Лук – листья (5), стебель (6).	<b>3 балла</b>
<b>20.</b>	Рыбам не хватает кислорода	<b>1 балл</b>
<b>Часть 2</b>	<b>Всего</b>	<b>14 баллов</b>

<b>ЧАСТЬ 3</b>										
<b>21.</b>	В Европе и Азии	<b>1 балл</b>								
<b>22.</b>	Танкоград, танков	<b>2 балла</b>								
<b>23.</b>	<u>Бурундук</u> , кабан, <u>бобр</u> , <u>лось</u> , барсук. Растительные: <u>бурундук</u> , бобр, лось	<b>8 баллов</b>								
<b>24.</b>	<table border="1" style="width: 100%; border-collapse: collapse;"> <tr> <td style="width: 50%;">поползень</td> <td style="width: 50%;">деревья</td> </tr> <tr> <td>клоп-водомерка</td> <td>вода</td> </tr> <tr> <td>кузнечик</td> <td>трава</td> </tr> <tr> <td>дождевой червь</td> <td>почва</td> </tr> </table> <p><i><b>Примечание:</b></i> Другие варианты ответов не допускаются.</p>	поползень	деревья	клоп-водомерка	вода	кузнечик	трава	дождевой червь	почва	<b>2 балла</b>
поползень	деревья									
клоп-водомерка	вода									
кузнечик	трава									
дождевой червь	почва									
<b>25.</b>	<p><b>Заповедники:</b> Ильменский (или Аркаим (филиал); Восточно-Уральский, Южно-Уральский.  <b>Нац. парки:</b> Зюраткуль, Таганай.  <b>Памятники природы Челябинска:</b> оз. Смолино, Челябинский (городской) бор, Каштакский бор  <i><b>Примечание:</b></i> Допускаются другие варианты ответов, но достоверность должна быть проверена членами комиссии.</p>	<b>8 баллов</b>								
<b>Часть 3</b>	<b>Всего</b>	<b>21 балл</b>								
	<b>ВСЕГО</b>	<b>50 баллов</b>								